

Znajdź bliźniaka (4-6 lat)

Imię: _____

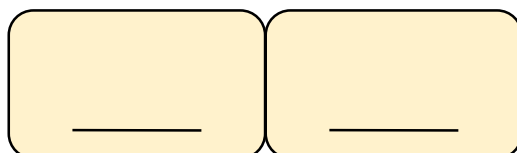
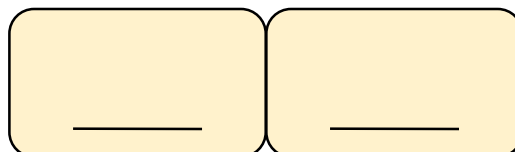
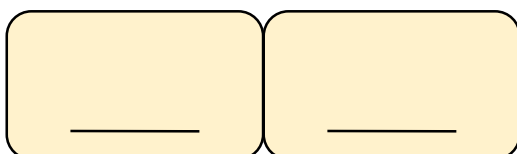
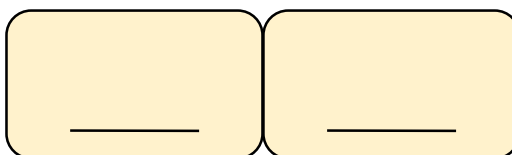
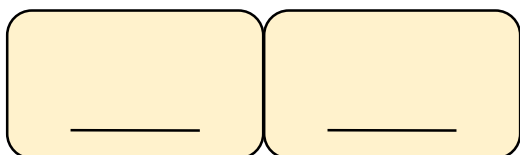
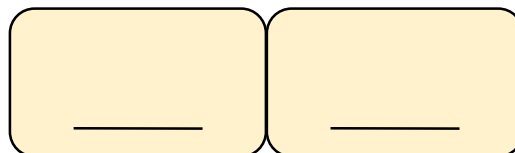
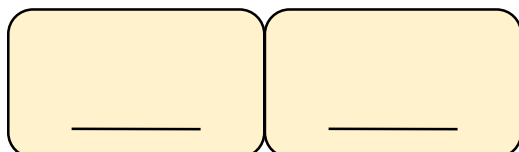
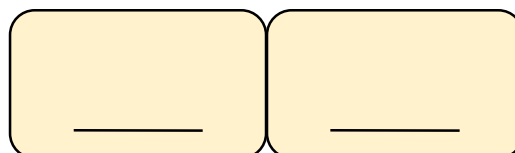
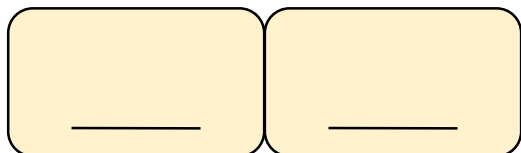
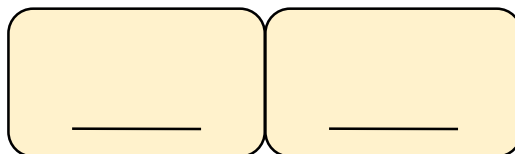
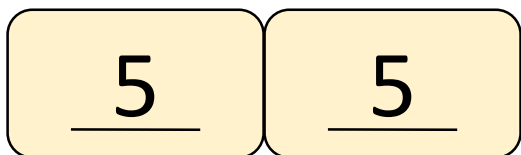
Imię: _____

Imię: _____

Napisz jakie pary udało Wam się znaleźć

Imię: _____

Klasa: _____



Znajdź przyjaciół 10 (100 lub 1000) (5-7 lat)

Napisz jakich przyjaciół 10 (100 lub 1000)
udało się Wam znaleźć

Imię: _____

Imię: _____

Imię: _____

Imię: _____

Klasa: _____

7	3
---	---

___	___
-----	-----

___	___
-----	-----

___	___
-----	-----

___	___
-----	-----

___	___
-----	-----

20	80
----	----

___	___
-----	-----

___	___
-----	-----

___	___
-----	-----

___	___
-----	-----

___	___
-----	-----

___	___
-----	-----

___	___
-----	-----

Budowanie liczb (6-8 lat)

Imię: _____

Imię: _____

Imię: _____

Imię: _____

Klasa: _____

Zapisz liczby jakie udało się
Wam zbudować

Liczba z karteczki:

236

Zbudowana liczba:

2 3 6